

## Příklady pro MA2

### Derivace a diferenciál.

1. Nalezněte parciální derivace  $\frac{\partial f}{\partial x}$  a  $\frac{\partial f}{\partial y}$  pro následující funkce:

$$(a) f = \sin \frac{x}{y} \cos \frac{y}{x},$$

$$(b) f = \ln \frac{\sqrt{x^2 + y^2} - x}{\sqrt{x^2 + y^2} + x},$$

$$(c) f = (1 + \sin^2 x)^{\ln y}.$$

#### Výsledky:

$$(a) \frac{\partial f}{\partial x} = \frac{1}{y} \cos \frac{x}{y} \cos \frac{y}{x} + \frac{y}{x^2} \sin \frac{x}{y} \sin \frac{y}{x},$$

$$\frac{\partial f}{\partial y} = -\frac{x}{y^2} \cos \frac{x}{y} \cos \frac{y}{x} - \frac{1}{x} \sin \frac{x}{y} \sin \frac{y}{x}.$$

$$(b) \frac{\partial f}{\partial x} = -\frac{2}{\sqrt{x^2 + y^2}}, \quad \frac{\partial f}{\partial y} = \frac{2x}{y\sqrt{x^2 + y^2}}.$$

$$(c) \frac{\partial f}{\partial x} = \ln y (1 + \sin^2 x)^{\ln y - 1} \sin 2x,$$

$$\frac{\partial f}{\partial y} = (1 + \sin^2 x)^{\ln y} \frac{1}{y} \ln(1 + \sin^2 x).$$

2. Nalezněte parciální derivace  $\frac{\partial f}{\partial x}$ ,  $\frac{\partial f}{\partial y}$  a  $\frac{\partial f}{\partial z}$  pro následující funkce:

$$(a) f = \frac{y}{z} + \operatorname{arctg} \frac{z}{x} + \operatorname{arctg} \frac{x}{z},$$

$$(b) f = z^{xy},$$

$$(c) f = \left(\frac{x}{y}\right)^z.$$

#### Výsledky:

$$(a) \frac{\partial f}{\partial x} = 0, \quad \frac{\partial f}{\partial y} = \frac{1}{z}, \quad \frac{\partial f}{\partial z} = -\frac{y}{z^2},$$

$$(b) \frac{\partial f}{\partial x} = z^{xy} y \ln z, \quad \frac{\partial f}{\partial y} = z^{xy} x \ln z, \quad \frac{\partial f}{\partial z} = xy z^{xy-1},$$

$$(c) \frac{\partial f}{\partial x} = \frac{z}{x} \left(\frac{x}{y}\right)^z, \quad \frac{\partial f}{\partial y} = -\frac{z}{y} \left(\frac{x}{y}\right)^z, \quad \frac{\partial f}{\partial z} = \left(\frac{x}{y}\right)^z \ln \frac{x}{y}.$$

3. Nalezněte diferenciály funkce v zadaném bodě.

(a)  $f = \frac{x^2 - y^2}{x^2 + y^2}$ ,  $A = (1, 1)$ ,

(b)  $f = \operatorname{arctg} \frac{y}{1 + x^2}$ ,  $A = (1, -1)$ ,

(c)  $f = \left(xy + \frac{x}{y}\right)^z$ ,  $A = (1, 1, 1)$ ,

(d)  $f = \ln(x_1 + x_2 + \cdots + x_n)$ ,  $A = (1, 2, \dots, n)$ .

**Výsledky:**

(a)  $df[h_1, h_2] = h_1 - h_2$ ,

(b)  $df[h_1, h_2] = \frac{2}{5}h_1 + \frac{2}{5}h_2$ ,

(c)  $df[h_1, h_2, h_3] = 2h_1 + h_3 \ln 4$ ,

(d)  $df[h_1, \dots, h_n] = \frac{2}{n(n+1)}(h_1 + \cdots + h_n)$ .

4. Nalezněte tečné (nad)roviny k funkcím v zadaném bodě.

(a)  $z = x \sin(x + y)$ ,  $A = (-1, 1, ?)$ ,

(b)  $z = 1 + x^2 y^3$ ,  $A = (-1, 1, ?)$ ,

(c)  $z = yx^y$ ,  $A = (2, 1, ?)$ ,

(d)  $u = e^{x+xy+xyz}$ ,  $A = (1, -1, -2, ?)$ .

(e)  $z^3 + 3xyz + 1 = 0$ ,  $A = (0, 1, ?)$ ,

(f)  $e^z - xyz - 2 = 0$ ,  $A(1, 0, ?)$ ,

(g)  $\sin(xyz) = x + 2y + 3z$ ,  $A = (2, -1, ?)$ ,

(h)  $x \cos y + y \cos z + z \cos x = 1$ ,  $A = (0, 1, 0)$ ,

(i)  $x + y + z = e^{xyz}$ ,  $A = (0, 0, 1)$ .

**Výsledky:**

(a)  $x + y + z = 0$ ,

(b)  $2x - 3y + z + 3 = 0$ ,

(c)  $x + y(2 + 2 \ln 2) - z - (2 + 2 \ln 2) = 0$ ,

(d)  $e^2(-2x + y + z) + u + 4e^2 = 0$ ,

(e)  $-x + z + 1 = 0$ ,

(f)  $y \ln 2 - 2z + 2 \ln 2 = 0$ ,

- (g)  $x + 2y + 5z = 0$ ,
- (h)  $x \cos 1 + y + z - 1 = 0$ ,
- (i)  $x + y + z = 1$ .

5. Nalezněte úhel pod kterým se protínají grafy daných funkcí v zadaném bodě.

- (a)  $z = \sqrt{x^2 - y^2}$ ,  $z = x^3 + y^3 - 3xy$ ,  $A = (1, 0, ?)$
- (b)  $zx + 2y^2 - 2 = 0$ ,  $z = 2x^2 + y^2$ ,  $A = (1, 0, 2)$ .
- (c)  $3x^2 + 2y^2 + z^2 = 9$ ,  $x^2 + y^2 + z^2 - 8x - 6y - 8z + 24 = 0$ ,  $A = (1, 1, 2)$

**Výsledky:**

- (a)  $\cos \alpha = \frac{4}{\sqrt{38}}$ , tj.  $\alpha \approx 50^\circ$ .
- (b)  $\cos \alpha = \frac{7}{\sqrt{85}}$ , tj.  $\alpha \approx 41^\circ$ .
- (c)  $\cos \alpha = 1$ , tj.  $\alpha = 0$ .

6. Zjistěte hodnotu parametru  $s$ , aby se plochy  $x^2 + y^2 + (z - s)^2 = 18$  a  $z = x^2 + y^2$  protínaly pod úhlem  $\frac{1}{2}\pi$ .

**Výsledek:**  $s = -2$ .

7. Nalezněte tečnou rovinu k ploše  $S$ , která je rovnoběžná se zadanou rovinou  $\varrho$ .

- (a) plocha  $S: x^2 + 4y^2 - z^2 = 4$  a rovina  $\varrho: 2x + 2y + z = 0$ ,
- (b) plocha  $S: x^2 - y^2 - z^2 = 1$  a rovina  $\varrho: x + y - z = 0$ .

**Výsledky:**

- (a)  $2x + 2y + z \pm 4 = 0$ .
- (b) Žádná taková tečná rovina neexistuje.

8. Nalezněte tečné přímky ke křivkám zadaným jako průnik dvou ploch v předepsaném bodě.

- (a) plochy  $xyz = 1$ ,  $x^2 + 2y^2 + 3z^2 = 6$  a bod  $A = (1, 1, 1)$ .
- (b) plochy  $x^2 + y^2 = 4$ ,  $x^2 + y^2 - z = 0$  a bod  $A = (\sqrt{2}, \sqrt{2}, 4)$

**Výsledky:**

(a)  $(1, -2, 1)t + A, t \in \mathbb{R}.$

(b)  $(-1, 1, 0)t + A, t \in \mathbb{R}.$

9. Nalezněte tečnou rovinu k ploše  $S : x^2 + 2y^2 + 3z^2 = 6$ , která je

(a) rovnoběžná s rovinou  $x - 2y + 3z = 0$ .

(b) kolmá na roviny  $2x - y + z = 0$  a  $2x - y - 5z = 0$ .

(c) kolmá na rovinu  $x\sqrt{2} - y\sqrt{3} + z\sqrt{2} = 0$  a kolmá na tečnou rovinu k ploše  $S$  v bodě  $A = \frac{1}{\sqrt{2}}(3, 0, -1)$ .

**Výsledky:**

(a)  $x - 2y + 3z \pm 6 = 0,$

(b)  $x + 2y \pm 3\sqrt{2} = 0.$

(c) Tečná rovina k  $S$  v bodě  $A$  má rovnici  $x - z - 2\sqrt{2} = 0$  a hledaná tečná rovina je  $x + 2y\sqrt{2/3} + z - 4 = 0$ .10. Ukažte, že všechny tečné roviny k ploše zadané  $z - x \sin \frac{y}{x} = 0$  se protínají v jednom bodě.**Výsledek:** Procházejí počátkem.**Extrémy funkcí.****Lokální extrémy, stručný postup a ilustrace.**Máme vyšetřit lokální extrémy funkce  $f = x^3 + 3xy^2 - 39x - 36y - 6$ .

1. Zjistíme stacionární body, tj. body, kde platí

$$\frac{\partial f}{\partial x} = 0, \quad \frac{\partial f}{\partial y} = 0.$$

V našem případě to jsou rovnice  $x^2 + y^2 = 13$  a  $xy = 6$ . Jejich řešením jsou čtyři stacionární body  $(\pm 3, \pm 2)$  a  $(\pm 2, \pm 3)$ .2. Abychom zjistili, zda se v nich nabývá nějaký extrém funkce  $f$ , sestavíme tzv. Hessovu matici (nebo krátce hessián):

$$\mathbb{H} = \begin{pmatrix} \frac{\partial^2 f}{\partial x^2} & \frac{\partial^2 f}{\partial x \partial y} \\ \frac{\partial^2 f}{\partial y \partial x} & \frac{\partial^2 f}{\partial y^2} \end{pmatrix}.$$

Pro zadanou funkci  $f$  je to matice

$$\mathbb{H} = \begin{pmatrix} 6x & 6y \\ 6y & 6x \end{pmatrix} \sim \begin{pmatrix} x & y \\ y & x \end{pmatrix}.$$

Hlavní subdeterminanty matice  $\mathbb{H}$  jsou  $D_1 = x$  a  $D_2 = x^2 - y^2$ . Existenci extrémů posoudíme podle následujícího kritéria:

- Jsou-li všechny hlavní subdeterminanty v daném bodě  $> 0$ , má  $f$  v tomto bodě minimum.
- Střídají-li hlavní subdeterminanty v daném bodě znaménko s tím, že první subdeterminant  $D_1 < 0$ , má  $f$  v tomto bodě maximum.
- Je-li  $\det \mathbb{H} \neq 0$  v daném bodě a neplatí-li ani jedno z výše uvedených pravidel, je v příslušný bod sedlový.

V našem příkladě platí v bodě  $(3, 2)$ , že  $D_1 > 0$  a  $D_2 > 0$ , jde tedy o lokální minimum. V bodě  $(-3, -2)$  je  $D_1 < 0$  a  $D_2 > 0$ , jde tedy o lokální maximum. Zbylé body jsou sedlové.

1. Vyšetřete lokální extrémy následujících funkcí.

(a)  $f = x^2 + xy + y^2 - 12x - 3y$ ,

(b)  $f = 3x^2y + y^3 - 12x - 15y + 3$ ,

(c)  $f = \frac{x+y}{xy} - xy$ ,

(d)  $f = (x+y^2)e^{x/2}$ ,

(e)  $f = 2x^4 + y^4 - x^2 - 2y^2$ ,

(f)  $f = x^3 + xy^2 - 6xy = 0$ ,

(g)  $f = e^{-(x^2+y^2)}(2x^2 + y^2)$ ,

(h)  $f = x^4 + y^4 - 2(x-y)^2$ ,

(i)  $f = \frac{1}{z} + \frac{z}{y} + \frac{y}{x} + x$ ,

(j)  $f = y + \frac{x^2}{4y} + \frac{z^2}{x} + \frac{2}{z}$ .

**Výsledky:**

(a)  $f$  má jediný stacionární bod:  $(7, -2)$  - minimum.

(b)  $f$  má dva stacionární body:  $(1, 2)$  - minimum,  $(-1, -2)$  - maximum.

- (c)  $f$  má jediný stacionární bod:  $(-1, -1)$  - maximum.  
 (d)  $f$  má jediný stacionární bod:  $(-2, 0)$  - minimum.  
 (e)  $f$  má 9 stacionárních bodů:  $(0, 0)$  - maximum,  $(\pm 1/2, \pm 1)$  a  $(\mp 1/2, \pm 1)$  jsou minima, zbylé body  $(\pm 1/2, 0)$  a  $(0, \pm 1)$  jsou sedlové.  
 (f)  $f$  má 4 stacionární body:  $(\sqrt{3}, 3)$  - minimum,  $(-\sqrt{3}, 3)$  - maximum, body  $(0, 0)$  a  $(0, 6)$  jsou sedlové,  
 (g)  $f$  má 5 stacionárních bodů:  $(0, 0)$  - minimum,  $(\pm 1, 0)$  - maximum,  $(0, \pm 1)$  - sedlové body.  
 (h)  $f$  má 3 stacionární body:  $(-\sqrt{2}, \sqrt{2})$  a  $(\sqrt{2}, -\sqrt{2})$  - minima,  $(0, 0)$  nelze určit pomocí kritérií, ale po přímce  $y = x$  je v bodě  $(0, 0)$  minimum a po přímce  $y = 0$  je v bodě  $(0, 0)$  lokální maximum, tj. v  $(0, 0)$  není extrém.  
 (i)  $f$  má 2 stacionární body:  $(1, 1, 1)$  - minimum,  $(-1, 1, -1)$  - maximum,  
 (j)  $f$  má 2 stacionární body:  $(1, \frac{1}{2}, 1)$  - minimum,  $(-1, -\frac{1}{2}, -1)$  - maximum.

### Vázané extrém, stručný postup a ilustrace.

Vyšetříme extrém funkce  $f = x^2y$  na  $M = \{(x, y) \in \mathbb{R}^2 \mid x^2 + y^2 = 1\}$ . Množina  $M$  je zadaná vazebnou podmínkou  $g(x, y) = 0$ , kde  $g = x^2 + y^2 - 1$ . Sestavíme tzv. Lagrangeovu funkci  $L = f + \lambda g$ , v našem případě

$$L = x^2y + \lambda(x^2 + y^2 - 1).$$

Vypočteme stacionární body funkce  $L$ , tj. řešíme následující rovnice

$$\frac{\partial L}{\partial x} = 0, \quad \frac{\partial L}{\partial y} = 0, \quad \frac{\partial L}{\partial \lambda} = 0.$$

Konkrétně,  $2xy + 2\lambda y = 0$ ,  $x^2 + 2\lambda y = 0$ ,  $x^2 + y^2 - 1 = 0$ . Řešením je šest bodů  $(0, \pm 1)$ ,  $(\pm \sqrt{2/3}, 1/\sqrt{3})$  a  $(\pm \sqrt{2/3}, -1/\sqrt{3})$ . Protože množina  $M$  je uzavřená a omezená, funkce  $f$  na ní nabývá minima i maxima. Stačí jen dosadit vypočetné body do funkce  $f$  a zjistit, kde má nejmenší a největší hodnotu. Závěr: Maximum je v bodech  $(\pm \sqrt{2/3}, 1/\sqrt{3})$  a minimum v bodech  $(\pm \sqrt{2/3}, -1/\sqrt{3})$ .

2. Vyšetřete extrém funkce  $f$  na zadané množině  $M$ .

(a)  $f = y^2 - x^2$ ,  $M = \{(x, y) \in \mathbb{R}^2 \mid x^2 + 4y^2 = 4\}$ ,

- (b)  $f = x^2 + y^2$ ,  $M = \{(x, y) \in \mathbb{R}^2 \mid xy = 1\}$ ,
- (c)  $f = e^{x^2y}$ ,  $M = \{(x, y) \in \mathbb{R} \mid x^2 + 3y^2 = 3\}$ ,
- (d)  $f = x^2 + y^2$ ,  $M = \{(x, y, z) \in \mathbb{R}^3 \mid x^4 + y^4 = 1\}$ ,
- (e)  $f = \cos^2 x + \cos^2 y$ ,  $M = \{(x, y) \in \mathbb{R} \mid x - y = \frac{1}{4}\pi\}$ ,
- (f)  $f = x - 2y + 2z$ ,  $M = \{(x, y, z) \in \mathbb{R}^3 \mid x^2 + y^2 + z^2 = 9\}$ ,
- (g)  $f = xyz$ ,  $M = \{(x, y, z) \in \mathbb{R}^3 \mid x^2 + y^2 + z^2 = 3\}$ ,

**Výsledky:**

- (a)  $(0, \pm 1)$  - maximum,  $(\pm 2, 0)$  - minimum,
- (b) v bodech  $(1, 1)$  a  $(-1, -1)$  je minimum, maximum neexistuje, neboť funkce  $f$  je shora neomezená na  $M$ .
- (c) v bodech  $(\pm\sqrt{2}, 1/\sqrt{3})$  jsou maxima a v bodech  $(\pm\sqrt{2}, -1/\sqrt{3})$  jsou minima.
- (d) v bodech  $(0, \pm 1)$  a  $(\pm 1, 0)$  je minimum a v bodech  $(\pm 1/\sqrt{2}, \pm 1/\sqrt{2})$  a  $(\pm 1/\sqrt{2}, \mp 1/\sqrt{2})$  je maximum.
- (e) body extrémů jsou  $(\frac{1}{2}\pi k + \frac{1}{8}\pi, \frac{1}{2}\pi k - \frac{1}{8}\pi)$ , pro  $k$  sudé to jsou maxima a pro  $k$  liché minima,
- (f)  $(-1, 2, -2)$  - minimum,  $(1, -2, 2)$  - maximum,
- (g) extrémy jsou v bodech  $(t_1, t_2, t_3)$ , kde  $t_i \in \{-1, 1\}$ ; maxima jsou tam, kde má bod sudý počet záporných souřadnic a minima v bodech s lichým počtem záporných souřadnic.

3. Nalezněte největší objem kváдру víme-li, že

- (a) velikost jeho povrchu je  $S$ .
- (b) velikost součtu délek všech jeho stran je  $a$ .
- (c) délka tělesové uhlopříčky je  $d$ .
- (d) velikost povrchu bez horní stěny je  $S_0$ .
- (e) spodní stěna leží v rovině  $xy$  a je vepsaný do vnitřku paraboloidu  $4x^2 + y^2 + z = 1$ .
- (f) kvádr  $Q$  je typu  $Q = \langle 0, a \rangle \times \langle 0, b \rangle \times \langle 0, c \rangle$  a vrchol  $(a, b, c)$  leží v rovině  $2x + y + 3z = 3$ .

**Výsledek:**

Délky hran kváдру označíme  $x, y, z$ .

- (a) Lagrangeova funkce je  $L = xyz + \lambda(2xy + 2yz + 2zx - S)$ . Největší objem je pro  $x = y = z = \sqrt{S/6}$ .
- (b) Lagrangeova funkce je  $L = xyz + \lambda(4x + 4y + 4z - a)$ . Největší objem je pro  $x = y = z = \frac{1}{12}a$ .
- (c) Lagrangeova funkce je  $L = xyz + \lambda(x^2 + y^2 + z^2 - d^2)$ . Největší objem je pro  $x = y = z = \sqrt{d/3}$ .
- (d) Lagrangeova funkce je  $L = xyz + \lambda(xy + 2yz + 2xz)$ . Největší objem je pro  $x = y = \sqrt{S_0/3}$  a výšku  $z = \frac{1}{2}\sqrt{S_0/3}$ .
- (e) Lagrangeova funkce je  $L = xyz + \lambda\left(4\left(\frac{x}{2}\right)^2 + \left(\frac{y}{2}\right)^2 + z - 1\right)$ . Největší objem je pro  $x = 1/2$ ,  $y = 1$  a výšku  $z = 1/2$ .
- (f) Lagrangeova funkce je  $L = abc + \lambda(2a + b + 3c - 3)$ . Největší objem je pro  $a = 1/2$ ,  $b = 1$ ,  $c = 1/3$ .

4. (Jen pro zájemce.) Mějme kvádr  $Q$  typu  $Q = \langle 0, a \rangle \times \langle 0, b \rangle \times \langle 0, c \rangle$  daného objemu  $V_0$ . Na kvádr svítí světlo, jehož paprsky mají směr vektoru  $\vec{v} = (1, 1, -1)$ . Nalezněte rozměry  $a, b, c$ , aby neosvětlená část roviny  $xy$  měla co nejmenší obsah.

#### Výsledek:

Obecně je obsah neosvětlené části  $S = ab + (ac + bc)/\sqrt{2}$ . Lagrangeova funkce je tak  $L = S + \lambda(abc - V_0)$ . Minimální hodnota velikosti neosvětlené části je při  $a = b = \frac{1}{\sqrt{2}}(2V_0)^{1/3}$ ,  $c = (2V_0)^{1/3}$  a je rovna  $\frac{3}{2}(2V_0)^{2/3}$ . Funkce  $S$  je na množině  $abc = V_0$  shora neomezená.

5. Mějme kužel  $z = h - \sqrt{x^2 + y^2}$ ,  $z \geq 0$ , kde  $h$  je jeho výška. Vepište do něj

- (a) válec s podstavou v rovině  $xy$  maximálního objemu.  
 (b) kvádr s podstavou v rovině  $xy$  maximálního objemu.

#### Výsledky:

- (a) Poloměr podstavy označíme  $r$  a výšku válce  $v$ . Lagrangeova funkce je  $L = \pi r^2 v + \lambda(v + r - h)$ . Největší objem je při  $r = \frac{2}{3}h$  a  $v = \frac{1}{3}h$ .
- (b) Délky hran kvádru si označíme  $a, b, c$ . Lagrangeova funkce je tak  $L = abc + \lambda(\frac{1}{2}\sqrt{a^2 + b^2} + c - h)$  Největší objem je pro  $a = b = \frac{2\sqrt{2}}{3}h$  a výška  $c = \frac{1}{3}h$ .



6. Nalezněte maximum a minimum funkce  $f(x, y, z) = 2y + z$  na množině  $M = \{(x, y, z) \in \mathbb{R}^3 \mid x + y + z = 1, x^2 + y^2 = 4\}$ .

**Výsledek:**

Lagrangeova funkce je  $L = 2y + z + \lambda_1(x + y + z - 1) + \lambda_2(x^2 + y^2 - 4)$ . Při více vazebných podmínkách jsou stacionární body funkce  $L$  řešením soustavy

$$\frac{\partial L}{\partial x} = 0, \quad \frac{\partial L}{\partial y} = 0, \quad \frac{\partial L}{\partial z} = 0, \quad \frac{\partial L}{\partial \lambda_1} = 0, \quad \frac{\partial L}{\partial \lambda_2} = 0.$$

V našem případě jsou stacionární body  $(\sqrt{2}, -\sqrt{2}, 1)$  a  $(-\sqrt{2}, \sqrt{2}, 1)$ . Dosazením do  $f$  zjistíme, že v prvním je minimum a ve druhém maximum.

7. Rovina  $x + y + 2z = 2$  protíná paraboloid  $z = x^2 + y^2$  v nějaké křivce  $C$ . Nalezněte na křivce  $C$  bod nejbližší a nejdále od počátku.

**Výsledek:**

Lagrangeova funkce je  $L = x^2 + y^2 + z^2 + \lambda_1(x + y + 2z - 2) + \lambda_2(x^2 + y^2 - z)$  a její stacionární body jsou  $(\frac{1}{2}, \frac{1}{2}, \frac{1}{2})$  a  $(-1, -1, 2)$ . První je nejbližší a druhý je nejvzdálenější.

8. Jakou vzdálenost má přímka  $y = 2x$  od křivky  $x^2 - y^2 = 3$ ?

**Výsledek:**

Minimalizujeme vzdálenost dvou bodů  $(x_1, y_1)$  a  $(x_2, y_2)$ , kde první leží na přímce a druhý na křivce, tj. hledáme minimum funkce čtyř proměnných  $f(x_1, y_1, x_2, y_2) = (x_1 - x_2)^2 + (y_1 - y_2)^2$ . Lagrangeova funkce je tak

$$L(x_1, y_1, x_2, y_2) = (x_1 - x_2)^2 + (y_1 - y_2)^2 + \lambda_1(y_1 - 2x_1) + \lambda_2(x_2^2 - y_2^2 - 3).$$

Její stacionární body jsou  $(x_1, y_1, x_2, y_2) = \pm(\frac{4}{5}, \frac{8}{5}, 2, 1)$  a vzdálenost přímky od křivky je  $\sqrt{(\frac{4}{5} - 2)^2 + (\frac{8}{5} - 1)^2} = 3/\sqrt{5}$ .

9. (Jen pro opravdové zájemce.) Mějme elipsu  $\frac{x^2}{a^2} + \frac{y^2}{b^2} = 1$ , která obsahuje ve svém vnitřku kružnici o rovnici  $(x - s)^2 + y^2 = s^2$ . Pro které hodnoty  $a, b$  bude tato elipsa ohraničovat nejmenší plochu?

### Výsledek:

Bod  $(x_0, y_0)$ , kde se kružnice a elipsa dotýkají splňuje

$$\frac{x_0^2}{a^2} + \frac{y_0^2}{b^2} = 1, \quad (x_0 - s)^2 + y_0^2 = s^2, \quad \frac{x_0}{a^2} = \alpha(x_0 - 2), \quad \frac{y_0}{b^2} = \alpha y_0.$$

(Druhé dvě podmínky vyjadřují, že normály k elipse i ke kružnici jsou rovnoběžné.) Jsou to čtyři rovnice pro tři proměnné  $x_0, y_0, \alpha$ . Aby měly řešení je nutné splnění podmínky  $s^2 a^2 = b^2(a^2 - b^2)$ . Lagrangeova funkce je tak  $L = \pi ab + \lambda(s^2 a^2 - b^2(a^2 - b^2))$ . Hledané hodnoty jsou  $a = 3s/\sqrt{2}$ ,  $b = s\sqrt{3/2}$  a obsah  $\frac{3}{2}\pi s^2\sqrt{3}$ .

### Dvojný integrál.

1. Vypočtěte následující integrály tak, že napíšete obě pořadí integrace a jedno z nich dopočtete.

(a)  $\iint_D \frac{y}{x^2}, \quad D = \{(x, y) \in \mathbb{R} \mid x > 0, x^3 \leq y \leq x^2\};$

(b)  $\iint_D x^2 y^2, \quad D = \{(x, y) \in \mathbb{R} \mid y^2 \leq x \leq 1\};$

(c)  $\iint_D \min\{x, y\}, \quad D = \langle 0, a \rangle^2, \quad a > 0;$

(d)  $\iint_D \frac{x}{x^2 + y^2}, \quad D = \{(x, y) \in \mathbb{R} \mid x \in \langle 0, \pi/4 \rangle, x \operatorname{tg} x \leq y \leq x\};$

(e)  $\iint_D x + 2y, \quad D$  je omezená přímkami  $y = x, y = 2x, x = 2$  a  $x = 3$ ;

(f)  $\iint_D |\sin x - y|, \quad D = \langle 0, \pi \rangle \times \langle 0, 1 \rangle.$

### Výsledky:

(a)  $\int_0^1 \int_{x^3}^{x^2} f \, dy dx = \int_0^1 \int_{\sqrt{y}}^{\sqrt[3]{y}} f \, dx dy = \frac{1}{15};$

(b)  $\int_0^1 \int_{-\sqrt{x}}^{\sqrt{x}} f \, dy dx = \int_{-1}^1 \int_{y^2}^1 f \, dx dy = \frac{4}{27};$

(c)  $\int_0^a \int_0^x y \, dy dx + \int_0^a \int_x^a x \, dy dx = \int_0^a \int_0^y x \, dx dy + \int_0^a \int_y^a y \, dx dy = \frac{a^3}{3};$

$$(d) \int_0^{\pi/4} \int_0^x f \, dydx = \int_0^1 \int_y^{h^{-1}(y)} f \, dx dy = \frac{\pi^2}{32}, \text{ kde } h(x) = x \operatorname{tg} x;$$

$$(e) \int_2^3 \int_x^{2x} f \, dydx = \int_2^3 \int_2^y f \, dx dy + \int_3^4 \int_2^3 f \, dx dy + \int_4^6 \int_{y/2}^3 f \, dx dy = \frac{76}{3};$$

$$(f) \int_0^\pi \int_0^{\sin x} (\sin x - y) \, dy dx + \int_0^\pi \int_{\sin x}^1 (\sin x - y) \, dy dx \\ = \int_0^1 \int_0^{\arcsin y} (y - \sin x) \, dx dy + \int_0^1 \int_{\pi - \arcsin y}^\pi (y - \sin x) \, dx dy + \\ + \int_0^1 \int_{\arcsin x}^{\pi - \arcsin x} (\sin x - y) \, dx dy = \pi - 2.$$

2. Napište následující integrály v opačném pořadí integrace.

$$(a) \int_0^4 \int_{x/2}^{\sqrt{x}} f \, dy dx;$$

$$(b) \int_0^3 \int_0^{3-y} f \, dx dy;$$

$$(c) \int_0^2 \int_0^a f \, dy dx, \text{ kde } a = \frac{1}{2}(-1 + \sqrt{1+4x});$$

$$(d) \int_0^{\sqrt{2}/2} \int_y^{\sqrt{1-y^2}} f \, dx dy + \int_{-\sqrt{2}/2}^0 \int_{-y}^{\sqrt{1-y^2}} f \, dx dy;$$

$$(e) \int_{-\pi}^\pi \int_{-1}^{\cos x} f \, dy dx;$$

$$(f) \int_{\pi/2}^\pi \int_{\cos x}^{\sin x} f \, dy dx;$$

$$(g) \int_{-1}^1 \int_{x^2}^{1+\sqrt{1-x^2}} f \, dy dx;$$

**Výsledky:**

$$(a) \int_0^2 \int_{y^2}^{2y} f \, dx dy;$$

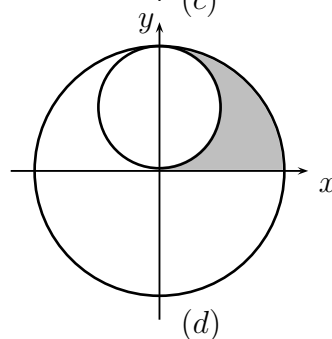
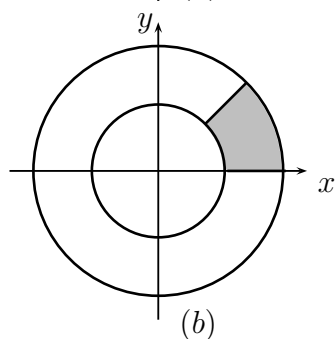
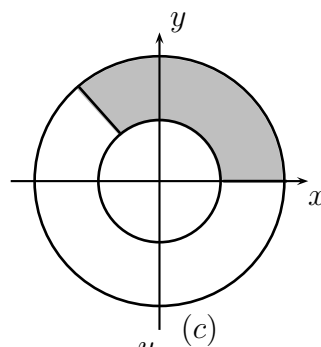
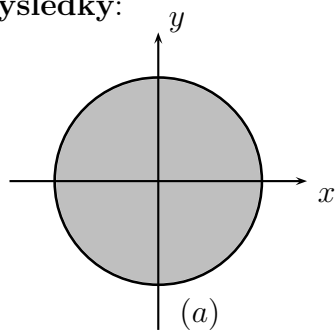
$$(b) \int_0^3 \int_0^{3-x} f \, dy dx;$$

- (c)  $\int_0^1 \int_0^{y+y^2} f \, dx dy;$
- (d)  $\int_0^{\sqrt{2}/2} \int_{-x}^x f \, dy dx + \int_{\sqrt{2}/2}^1 \int_{-\sqrt{1-x^2}}^{\sqrt{1-x^2}} f \, dy dx;$
- (e)  $\int_{-1}^1 \int_{-\arccos y}^{\arccos y} f \, dx dy;$
- (f)  $\int_{-1}^0 \int_{\arccos y}^{\pi} f \, dx dy + \int_0^1 \int_{\pi/2}^{\pi - \arcsin y} f \, dx dy;$
- (g)  $\int_0^1 \int_{-\sqrt{y}}^{\sqrt{y}} f \, dx dy + \int_1^2 \int_{-\sqrt{1-(y-1)^2}}^{\sqrt{1-(y-1)^2}} f \, dx dy.$

3. Načrtěte obrázek množiny  $D$  a pomocí polárních souřadnic vypočtěte  $\iint_D f$ .

- (a)  $\iint_D xy, \quad D = \{(x, y) \in \mathbb{R}^2 \mid x^2 + y^2 \leq 9\};$
- (b)  $\iint_D \operatorname{arctg} \frac{y}{x}, \quad D = \{(x, y) \in \mathbb{R}^2 \mid 1 \leq x^2 + y^2 \leq 4, 0 \leq y \leq x\};$
- (c)  $\iint_D \frac{x}{\sqrt{x^2 + y^2}},$   
 $D = \{(x, y) \in \mathbb{R}^2 \mid 3 \leq x^2 + y^2 \leq 9, x + y \geq 0, y \geq 0\};$
- (d)  $\iint_D x,$   
 $D = \{(x, y) \in \mathbb{R}^2 \mid x^2 + y^2 \leq 4, x^2 + y^2 - 2y \geq 0, x \geq 0, y \geq 0\};$

Výsledky:



$$(a) \int_0^{2\pi} \int_0^3 \rho^2 \cos \varphi \sin \varphi \, d\rho d\varphi = 0;$$

$$(b) \int_0^{\pi/4} \int_1^2 \varphi \rho \, d\rho d\varphi = \frac{3\pi^2}{64};$$

$$(c) \int_0^{3\pi/4} \int_{\sqrt{3}}^3 \rho \cos \varphi \, d\rho d\varphi = \frac{3}{2}\sqrt{2};$$

$$(d) \int_0^{\pi/2} \int_{2\sin \varphi}^2 \rho^2 \cos \varphi \, d\rho d\varphi = 2.$$

4. Napište následující integrály v polárních souřadnicích v pořadí integrace  $d\rho d\varphi$ .

$$(a) \int_0^r \int_0^{\sqrt{r^2-x^2}} f \, dy dx;$$

$$(b) \int_0^2 \int_0^x f \, dy dx;$$

$$(c) \int_0^1 \int_{-y}^y f \, dx dy;$$

$$(d) \int_0^a \int_{\sqrt{ax-x^2}}^{\sqrt{bx-x^2}} f \, dy dx + \int_a^b \int_0^{\sqrt{bx-x^2}} f \, dy dx, \quad 0 < a < b.$$

**Výsledky:**

$$(a) \int_0^{\pi/2} \int_0^r f \rho \, d\rho d\varphi;$$

$$(b) \int_0^{\pi/4} \int_0^{2/\cos \varphi} f \rho \, d\rho d\varphi;$$

$$(c) \int_{\pi/4}^{3\pi/4} \int_0^{1/\sin \varphi} f \rho \, d\rho d\varphi;$$

$$(d) \int_0^{\pi/2} \int_{a \cos \varphi}^{b \cos \varphi} f \rho \, d\rho d\varphi.$$

5. Nalezněte těžiště následujících množin.

$$(a) D = \{(x, y) \in \mathbb{R}^2 \mid y^2 \leq x \leq 2 - y\}, \text{ hustota } f = 1;$$

$$(b) D = \{(x, y) \in \mathbb{R}^2 \mid \sqrt{x} + \sqrt{y} \leq \sqrt{a}\}, \text{ hustota } f = 1;$$

$$(c) D = \{(x, y) \in \mathbb{R}^2 \mid x^2 + y^2 \leq 2ax\}, \text{ hustota } f = \sqrt{x^2 + y^2}.$$

**Výsledky:**

$$(a) t = (8/5, -1/2);$$

$$(b) t = (a/5, a/5);$$

$$(c) t = (6a/5, 0).$$

6. Kruhový bazén má poloměr  $3 \, m$ . Ve směru severo-jížním je jeho hlouka konstantní a ve směru východo-západním lineárně roste z hodnoty  $0.5 \, m$  na východním konci k hodnotě  $2.5 \, m$  na západním konci. Zjistěte jaký objem vody bazén pojme.

**Výsledek:**

$$V = \iint_D \left(\frac{x}{3} + \frac{3}{2}\right) = \frac{27}{2} \pi m^3, \text{ kde } D = \{(x, y) \mid x^2 + y^2 \leq 9\}.$$

7. Horní polovinu elipsy  $E = \left\{ (x, y) \in \mathbb{R}^2 \mid \frac{x^2}{a^2} + \frac{y^2}{b^2} \leq 1, y \geq 0 \right\}$  volně zavěsíme v bodě  $(a, 0)$ . Zjistěte, jaký úhel bude svírat spojnice bodů

$(-a, 0)$  a  $(a, 0)$  se svislým směrem.

**Výsledek:**

K výpočtu uijeme tzv. eliptické souřadnice, což je modifikace polárních souřadnic:  $\Phi = (a\rho \cos \varphi, b\rho \sin \varphi)$ ,  $\Delta_{\Phi} = ab\rho$ . Těžiště je  $t = (0, \frac{4b}{3\pi})$  a úhel  $\text{tg } \alpha = \frac{4b}{3\pi a}$ .

8. V disku o poloměru  $R$  vyřízneme kruhový otvor s poloměrem  $a/2$ ,  $a \leq R$  tak, že se kraj otvoru dotýká středu disku. Jaký je moment setrvačnosti tohoto disku vzhledem k jeho středu, je-li plošná hustota rovna vzdálenosti od středu?

**Výsledek:**

Střed disku umístíme do počátku a střed otvoru do bodu  $a/2$  na ose  $x$ . Hustota je  $f = \sqrt{x^2 + y^2}$  a moment setrvačnosti  $I = \iint_D (x^2 + y^2)^{3/2} = \frac{2\pi R^5}{5} - \frac{16a^2}{75}$ , kde  $D = \{(x, y) \in \mathbb{R}^2 \mid x^2 + y^2 \leq R^2, x^2 + y^2 \geq ax\}$ .

**Trojný integrál.**

1. Vypočtete následující trojné integrály, s možným využitím cylindrických nebo sférických souřadnic.

(a)  $\iiint_P z$ ,  $P = \{(x, y, z) \in \mathbb{R}^3 \mid 2x + 2y + z \leq 2, x, y, z \geq 0\}$ ;

(b)  $\iiint_P z$ ,  $P = \{(x, y, z) \in \mathbb{R}^3 \mid 4x^2 + 4y^2 \leq z \leq 4\}$ ;

(c)  $\iiint_P y$ ,  $P = \{(x, y, z) \in \mathbb{R}^3 \mid x + y \leq 1, y + z \leq 1, x, y, z \geq 0\}$ ;

(d)  $\iiint_P x^2 + y^2 + z^2$ ,  $P = \{(x, y, z) \in \mathbb{R}^3 \mid x^2 + y^2 + z^2 \leq r^2, z \geq 0\}$ ;

(e)  $\iiint_P |z|$ ,  $P = \{(x, y, z) \in \mathbb{R}^3 \mid x^2 + y^2 \leq 1, x^2 + y^2 + z^2 \leq 4\}$ .

**Výsledky:**

(a)  $\int_0^1 \int_0^{1-x} \int_0^{2-2x-2y} z \, dz \, dy \, dx = \frac{1}{6}$ ;

(b) V cylindrických souřadnicích je  $\int_0^{2\pi} \int_0^1 \int_{4\rho^2}^4 z \rho \, dz \, d\rho \, d\varphi = \frac{16\pi}{3}$ ;

$$(c) \int_0^1 \int_0^{1-x} \int_0^{1-y} y \, dz dy dx = \frac{1}{12};$$

$$(d) \text{ Ve sférických souřadnicích je } \int_0^{\pi/2} \int_0^{2\pi} \int_0^r \varrho^4 \sin \theta \, d\varrho d\varphi d\theta = \frac{2\pi}{5} r^5;$$

$$(e) \text{ V cylindrických souřadnicích je } 2 \int_0^{2\pi} \int_0^1 \int_0^{\sqrt{4-\varrho^2}} z \varrho \, dz d\varrho d\varphi = \frac{7\pi}{2}.$$

2. Vypočtete hmotnost tělesa ležícího mezi dvěma sférami  $x^2 + y^2 + z^2 = r^2$  a  $x^2 + y^2 + z^2 = 4r^2$ , je-li hustota nepřímo úměrná vzdálenosti od středu sfér s koeficientem  $\kappa$ .

**Výsledek:**

$$\text{Ve sférických souřadnicích } \int_0^\pi \int_a^{2r} \int_0^{2\pi} \frac{\kappa}{\varrho} \varrho^2 \sin \theta \, d\varphi d\varrho d\theta = 6\pi\kappa r^2.$$

3. Těleso ležící v 1. oktantu je omezeno následujícími plochami  $x + y = a$ ,  $x + y - z + a = 0$ . Zjistěte hodnotu  $a > 0$ , aby objem byl roven  $20/3$ .

**Výsledek:**

$$\int_0^a \int_0^{a-x} \int_0^{x+y+a} 1 \, dz dy dx = \frac{5a^3}{6}. \text{ Hledaná hodnota je } a = 2.$$

4. Trojbokou pyramidu  $P = \{(x, y, z) \in \mathbb{R}^3 \mid x + y + z \leq 1, x, y, z \geq 0\}$  s hustotou  $f = z$  rozděluje rovina  $x = a$  na dvě části se stejnými hmotnostmi. Určete hodnotu  $a$ .

**Výsledek:**

$$\text{Musí platit } \int_0^a \int_0^{1-x} \int_0^{1-x-y} z \, dz dy dx = \frac{1}{2} \int_0^1 \int_0^{1-x} \int_0^{1-x-y} z \, dz dy dx. \text{ Odtud } a = 1 - 1/\sqrt[4]{2}.$$

5. (Jen pro zájemce). Zjistěte objem množiny, která vznikla průnikem tří na sebe kolmých válců  $V_1 = \{(x, y, z) \in \mathbb{R}^3 \mid x^2 + y^2 \leq a^2\}$ ,  $V_2 = \{(x, y, z) \in \mathbb{R}^3 \mid x^2 + z^2 \leq a^2\}$ ,  $V_3 = \{(x, y, z) \in \mathbb{R}^3 \mid y^2 + z^2 \leq a^2\}$ .

**Výsledek:**

$$\text{Označíme-li } D \text{ čtvrtkruh s poloměrem } a \text{ ležící v 1. kvadrantu, pak objem je } V = 8 \iint_D \min\{\sqrt{a^2 - x^2}, \sqrt{a^2 - y^2}\} = \frac{8a^3}{\sqrt{2}}(\sqrt{2} - 1).$$



## Křivkový integrál.

1. Vypočtěte následující křivkové integrály.

- (a)  $\int_C x + y + z \, ds$ , kde  $C$  je helix (= šroubovice) s parametrizací  $\varphi(t) = (a \cos t, a \sin t, bt)$ ,  $t \in \langle 0, 2\pi \rangle$ ,  $a, b \geq 0$ ;
- (b)  $\int_C \sqrt{1 + 9xy} \, ds$ , kde  $C$  je graf  $y = x^3$ ,  $x \in \langle 0, 1 \rangle$ ;
- (c)  $\int_C xy - z^2 \, ds$ , kde  $C$  jsou dvě navazující úsečky, první z bodu  $(0, 0, 1)$  do bodu  $(0, 2, 0)$  a druhá z bodu  $(0, 2, 0)$  do bodu  $(1, 1, 1)$ ;
- (d)  $\int_C (x - y)^2 \, ds$ , kde  $C$  je horní část kružnice  $x^2 + y^2 = 2x$ ,  $y \geq 0$ .

### Výsledky.

(a)  $\int_0^{2\pi} (a \cos t + a \sin t + bt) \sqrt{a^2 + b^2} \, dt = \frac{1}{2} \pi^2 b \sqrt{a^2 + b^2}$ ;

(b) Parametrizace je  $\varphi(x) = (x, x^3)$  a  $\int_0^1 (1 + 9x^4) \, dx = 14/5$ ;

(c) Parametrizace první úsečky je  $\varphi_1(t) = (0, 2t, 1 - t)$ ,  $t \in \langle 0, 1 \rangle$  a druhé úsečky  $\varphi_2(t) = (t, 2 - t, t)$ ,  $t \in \langle 0, 1 \rangle$ . Pak

$$\int_0^1 -(1 - t)^2 \sqrt{5} \, dt + \int_0^1 (t(2 - t) - t^2) \sqrt{3} \, dt = \frac{1}{3}(\sqrt{3} - \sqrt{5});$$

(d) Parametrizace je  $\varphi(t) = (1 + \cos t, \sin t)$ ,  $t \in \langle 0, \pi \rangle$  a

$$\int_0^\pi (1 + \cos t - \sin t)^2 \, dt = 2\pi - 4.$$

2. Drát ve tvaru šroubovice  $\varphi(t) = (2 \cos t, 2 \sin t, t^2)$ ,  $t \in \langle 0, 2\pi \rangle$  má hustotu  $f = \sqrt{z}$ . Jaká je jeho hmotnost?

### Výsledek:

$$\int_0^{2\pi} 2t \sqrt{1 + t^2} \, dt = \frac{2}{3}(\sqrt{1 + 4\pi^2} - 1).$$

3. Základna plotu je kruh s poloměrem 5 m,  $x^2 + y^2 = 25$ , a výška plotu v bodě  $(x, y)$  je  $h(x, y) = 2 + \frac{x^2 - y^2}{250}$ . Pokud jeden litr barvy vystačí

na obarvení  $10 m^2$ , kolik litrů je třeba k obarvení plotu z obou stran?

**Výsledek:**

Plocha plotu je  $\int_0^{2\pi} \left(2 + \frac{\cos^2 t - \sin^2 t}{10}\right) 5 dt = 20\pi$ , a tedy stačí  $2\pi \approx 6.3l$  barvy.

4. Drát ve tvaru spirály  $C$  na plášti kužele má parametrizaci  $x = t \cos t$ ,  $y = t \sin t$ ,  $z = t$ ,  $t \in \langle 0, 4\pi \rangle$ , a hustotu  $f(x, y, z) = 1/\sqrt{2 + z^2}$ . Najděte moment setrvačnosti vzhledem k ose  $z$ .

**Výsledek:**

Parametrizace je  $\varphi(t) = (t \cos t, t \sin t, t)$  a  $\|\varphi'(t)\| = \sqrt{2 + t^2}$ . Pak

$$I = \int_C (x^2 + y^2) f ds = \int_0^{4\pi} t^2 \frac{1}{\sqrt{2 + t^2}} \sqrt{2 + t^2} dt = \frac{64}{3} \pi^3.$$

5. Mějme úsečku  $C$  z bodu  $(0, 0)$  do bodu  $(0, 1)$ . Pro které pole  $\vec{F}(x, y)$  je integrál přes  $C$  nulový?

- (a)  $\vec{F}(x, y) = (0, x)$ ;
- (b)  $\vec{F}(x, y) = (x, 0)$ ;
- (c)  $\vec{F}(x, y) = (0, y)$ ;
- (d)  $\vec{F}(x, y) = (y, 0)$ .

**Výsledek:** Parametrizace je  $\varphi(t) = (0, t)$ ,  $t \in \langle 0, 1 \rangle$  a  $\varphi'(t) = (0, 1)$ . Skalární součin  $\vec{F}(\varphi(t)) \cdot \varphi'(t) = 0$  v případech (a), (b) a (d). Jediný nenulový integrál je v případě (c) a jeho hodnota je  $1/2$ .

6. Vypočtěte následující křivkové integrály  $\int_{(C)} \vec{F} d\vec{s}$ :

- (a)  $\vec{F}(x, y) = (x^3, xy)$  a  $(C)$  je část kružnice  $x^2 + y^2 = 4$ ,  $x, y \geq 0$ , kladně orientovaná;
- (b)  $\vec{F}(x, y) = (2xy, x^2)$  a  $(C)$  je graf funkce  $y = x^3$  vedoucí z bodu  $(0, 0)$  do bodu  $(1, 1)$ ;
- (c)  $\vec{F}(x, y, z) = (x+y, y-z, z^2)$  a oblouk  $(C)$  má parametrizaci  $\varphi(t) = (t^2, t^3, t^2)$ ,  $t \in \langle 0, 1 \rangle$ ;

- (d)  $\vec{F}(x, y, z) = (x + z, x, -y)$  a  $(C)$  je obvod trojúhelníka s vrcholy  $A = (1, 0, 0)$ ,  $B = (0, 1, 0)$  a  $C = (0, 0, 1)$  orientovaný  $A \rightarrow B \rightarrow C \rightarrow A$ .

**Výsledky:**

- (a) Parametrizace je  $\varphi(t) = (2 \cos t, 2 \sin t)$ ,  $t \in \langle 0, \pi/2 \rangle$  a

$$\int_0^{\pi/2} (-16 \cos^3 t + 8 \cos^2 t) \sin t \, dt = -\frac{4}{3};$$

- (b) Parametrizace je  $\varphi(t) = (t, t^3)$ ,  $t \in \langle 0, 1 \rangle$  a  $\int_0^1 5t^4 \, dt = 1$ ;

(c)  $\int_0^1 (5t^5 - t^4 + 2t^3) \, dt = \frac{17}{15}$ ;

- (d) Strana  $AB$  má parametrizaci  $\varphi_1(t) = (1 - t, t, 0)$ , strana  $BC$  má  $\varphi_2(t) = (0, 1 - t, t)$  a strana  $CA$  má parametrizaci  $\varphi_3(t) = (t, 0, 1 - t)$ ,  $t \in \langle 0, 1 \rangle$ . Dostaneme  $\int_0^1 0 \, dt + \int_0^1 (-1 + t) \, dt + \int_0^1 1 \, dt = \frac{1}{2}$ .

7. Jakou práci vykoná pole  $\vec{F}(x, y) = \frac{(-y, x)}{x^2 + y^2}$  podél kladně orientované kružnice:

- (a)  $x^2 + y^2 = a^2$ ;  
 (b)  $x^2 + y^2 - 4x + 3 = 0$ .

**Výsledek:**

- (a) Parametrizace je  $\varphi(t) = (a \cos t, a \sin t)$ ,  $t \in \langle 0, 2\pi \rangle$  a

$$\int_0^{2\pi} \sin^2 t + \cos^2 t \, dt = 2\pi, \text{ (výsledek nezávisí na poloměru } a\text{);}$$

- (b) Parametrizace je  $\varphi(t) = (2 + \cos t, \sin t)$ ,  $t \in \langle 0, 2\pi \rangle$  a

$$\int_0^{2\pi} \frac{1 + 2 \cos t}{5 + 4 \cos t} \, dt. \text{ Tento integrál je třeba řešit substitucí } x = \operatorname{tg}(t/2).$$

Tím dostaneme integrál  $2 \int_0^\infty \left( -\frac{3}{2} \frac{1}{x^2 + 9} + \frac{1}{2} \frac{1}{x^2 + 1} \right) dx = 0$ .

**Plošný integrál.**

1. Vypočtěte následující plošné integrály.

- (a)  $\iint_M x^2 dS$ , kde  $M$  je část roviny  $2x + 2y + z = 4$  v 1. oktantu;
- (b)  $\iint_M (x + y + z) dS$ , kde  $M$  je část sféry  $x^2 + y^2 + z^2 = 1$ ,  $z \geq 0$ ;
- (c)  $\iint_M (x^2 + y^2 + z^2) dS$ , kde  $M$  je plášť kužele  $z = \sqrt{x^2 + y^2}$ ,  $z \leq 1$ ;
- (d)  $\iint_M z^2 dS$ , kde  $M = \{(x, y, z) \in \mathbb{R}^3 \mid x^2 + y^2 + z^2 = 4, 0 \leq z \leq 1\}$ ;
- (e)  $\iint_M (x + z^2 y) dS$ , kde  $M$  je část válce  $x^2 + y^2 = 1$ ,  $0 \leq z \leq 3$ , ležící v 1. oktantu;
- (f)  $\iint_M (x^2 + y^2)z dS$ , kde  $M$  je část kužele  $z = \sqrt{x^2 + y^2}$ ,  $z \in \langle a, b \rangle$ .

### Výsledky:

(a)  $M$  je graf funkce  $z = 4 - 2x - 2y$ , nemusíme hledat parametrizaci;

$$\int_0^2 \int_0^{2-x} x dy dx = 2;$$

(b)  $M$  je graf funkce  $z = \sqrt{1 - x^2 - y^2}$ , nemusíme tak hledat parametrizaci;  $\iint_K \frac{x + y + \sqrt{1 - x^2 - y^2}}{\sqrt{1 - x^2 - y^2}} = \pi$ , kde  $K$  je kruh  $x^2 + y^2 \leq 1$ .

Pokud přesto chceme  $M$  parametrizovat, použijeme sférické souřadnice:  $\Phi(\varphi, \vartheta) = (\sin \vartheta \cos \varphi, \sin \vartheta \sin \varphi, \cos \vartheta)$ . Pak  $\left\| \frac{\partial \Phi}{\partial \varphi} \times \frac{\partial \Phi}{\partial \vartheta} \right\| = \sin \vartheta$  a do-

staneme  $\int_0^{\pi/2} \int_0^{2\pi} (\sin \vartheta \cos \varphi + \sin \vartheta \sin \varphi + \cos \vartheta) \sin \vartheta d\varphi d\vartheta = \pi$ .

(c)  $\iint_K (2x^2 + 2y^2)\sqrt{2} = \pi\sqrt{2}$ , kde  $K$  je kruh  $x^2 + y^2 \leq 1$ ;

(d)  $M$  je graf funkce  $z = \sqrt{4 - x^2 - y^2}$ , nemusíme hledat parametrizaci;  $\iint_K \sqrt{4 - x^2 - y^2} = \frac{2\pi}{3}$ , kde  $K = \{(x, y) \in \mathbb{R}^2 \mid 3 \leq x^2 + y^2 \leq 4\}$ ;

(e) Pro parametrizaci plochy  $M$  uijeme cylindrické souřadnice:

$\Phi(\varphi, z) = (\cos \varphi, \sin \varphi, z)$ ,  $(\varphi, z) \in \langle 0, \pi/2 \rangle \times \langle 0, 3 \rangle$ . Pak  $\left\| \frac{\partial \Phi}{\partial \varphi} \times \frac{\partial \Phi}{\partial z} \right\| = 1$

$$\text{a } \int_0^{\pi/2} \int_0^3 (\cos \varphi + z^2 \sin \varphi) dz d\varphi = 12.$$

(f) Pro parametrizaci plochy  $M$  uijeme cylindrické souřadnice:

$\Phi(\varphi, \varrho) = (\varrho \cos \varphi, \varrho \sin \varphi, \varrho)$ ,  $(\varphi, \varrho) \in \langle 0, 2\pi \rangle \times \langle a, b \rangle$ . Pak dostaneme

$$\left\| \frac{\partial \Phi}{\partial \varphi} \times \frac{\partial \Phi}{\partial \varrho} \right\| = \sqrt{2}\varrho \text{ a } \int_0^{2\pi} \int_a^b \sqrt{2}\varrho^4 d\varrho d\varphi = \frac{2\pi\sqrt{2}}{5}(b^5 - a^5).$$

2. Určete těžiště množiny  $M = \{(x, y, z) \in \mathbb{R}^3 \mid x^2 + y^2 + z^2 = r^2, z \geq 0\}$ , je-li hustota  $f = 1$ .

**Výsledek:**

$M$  je graf funkce  $z = \sqrt{r^2 - x^2 - y^2}$ , nemusíme hledat parametrizaci.

Těžiště je  $(0, 0, t_z)$ , kde  $t_z = \frac{1}{2\pi r^2} \iint_M z dS = \frac{1}{2\pi r^2} \iint_K r = \frac{r}{2}$  a  $K$  je kruh  $x^2 + y^2 \leq r^2$ .

3. Vypočtete následující integrály vektorového pole  $\iint_{(M)} \vec{F} d\vec{S}$ .

(a)  $M$  je kruh  $x^2 + y^2 \leq 4$ ,  $z = 0$  orientovaný normálou s kladnou  $z$ -tovou složkou a  $\vec{F}(x, y, z) = (0, 0, x^2 + y^2)$ .

(b)  $M$  je část paraboloidu  $z = x^2 + y^2$ ,  $z \leq 2$  s orientací v kladném směru osy  $z$  a  $\vec{F}(x, y, z) = (y, -x, x^2 + y^2)$ .

(c)  $M$  je část sféry  $x^2 + y^2 + z^2 = r^2$  ležící v 1. oktantu s orientací směrem od počátku a  $\vec{F}(x, y, z) = (x, -z, y)$ .

**Výsledky:**

(a)  $M$  je graf funkce  $z = 0$  nad kruhem  $D = \{(x, y) \in \mathbb{R}^2 \mid x^2 + y^2 \leq 4\}$ .

Normála je  $(0, 0, 1)$  a tak  $\iint_D x^2 + y^2 = 8\pi$ .

(b) Uijeme cylindrických souřadnic  $\Phi(\varphi, \varrho) = (\varrho \cos \varphi, \varrho \sin \varphi, \varrho^2)$ . Pak

$\frac{\partial \Phi}{\partial \varphi} \times \frac{\partial \Phi}{\partial \varrho} = (-2\varrho^2 \cos \varphi, -2\varrho^2 \sin \varphi, \varrho)$  a máme  $\int_0^{2\pi} \int_0^{\sqrt{2}} \varrho^3 d\varrho d\varphi = 2\pi$ .

(c) Sférické souřadnice  $\Phi(\varphi, \vartheta) = (r \sin \vartheta \cos \varphi, r \sin \vartheta \sin \varphi, r \cos \vartheta)$  dávají  $\frac{\partial \Phi}{\partial \vartheta} \times \frac{\partial \Phi}{\partial \varphi} = r^2(\sin^2 \vartheta \cos \varphi, \sin^2 \vartheta \sin \varphi, \sin \vartheta \cos \vartheta)$ . Pak dostaneme

$$\int_0^{\pi/2} \int_0^{\pi/2} r^3 \sin^3 \vartheta \cos^2 \varphi d\vartheta d\varphi = \frac{1}{6}\pi r^3.$$

4. Funkce  $T(x, y, z) = x^2 + y^2 + z^2$  udává rozložení teploty v prostoru. Tepelný tok je vektorové pole  $\vec{F} = -\text{grad } T$ . Zjistěte tepelný tok sférou

$M : x^2 + y^2 + z^2 = a^2$  orientovanou vnější normálou.

**Výsledek:**

Tok  $\vec{F}$  je  $\vec{F} = -2(x, y, z)$  a

$$\iint_{(M)} \vec{F} d\vec{S} = -2 \iint_M (x, y, z) \frac{(x, y, z)}{\|(x, y, z)\|} dS = 4\pi a^3.$$

**Integrální věty.**

1. Pomocí Gaussovy věty vypočtete tok pole  $\vec{F}$  orientovanou plochou ( $M$ ):

- $\vec{F} = (0, 0, \frac{1}{3}z^3)$  a plocha  $M$  je sféra  $x^2 + y^2 + z^2 = r^2$  orientovaná vnější normálou;
- $\vec{F} = (x, y^2, y+z)$  a plocha  $M$  je hranice tělesa omezeného plochami  $x^2 + y^2 = 4$ ,  $z = x$  a  $z = 8$  a orientovaná vnější normálou;
- $\vec{F} = (xy^2 + \cos z, xe^{-z}, x^2z)$  a plocha  $M$  je hranice paraboloidu  $x^2 + y^2 \leq z \leq h$  orientovaná vnější normálou.

**Výsledky:**

(a) Použijeme sférické souřadnice:

$$\iiint \operatorname{div} \vec{F} = \int_0^\pi \int_0^r \int_0^{2\pi} \rho^4 \cos^2 \theta \sin \theta d\varphi d\rho d\theta = \frac{4\pi}{15} r^5;$$

(b) Použijeme cylindrické souřadnice:

$$\iiint \operatorname{div} \vec{F} = \int_0^{2\pi} \int_0^2 \int_{\rho \cos \varphi}^8 (2 + 2 \rho \sin \varphi) \rho dz d\rho d\varphi = 64\pi;$$

(c) Použijeme cylindrické souřadnice:

$$\iiint \operatorname{div} \vec{F} = \int_0^{2\pi} \int_0^{\sqrt{h}} \int_{\rho^2}^h \rho^3 dz d\rho d\varphi = \frac{\pi h^3}{6}.$$

2. Pomocí Greenovy věty spočtete integrály vektorového pole  $\vec{F}$  podél orientované křivky ( $C$ ):

- $\vec{F} = (y^2, x^2)$  a  $C$  je hranice čtverce  $\langle 0, 1 \rangle^2$  kladně orientovaná.
- $\vec{F} = (x+y, x^2-y)$  a  $C$  je hranice oblasti omezené křivkami  $y = x^2$ ,  $y = \sqrt{x}$ ,  $x \in \langle 0, 1 \rangle$ , kladně orientovaná.
- $\vec{F} = (xy^2, 2x^2y)$  a  $C$  je trojúhelník s vrcholy  $(0, 0)$ ,  $(2, 2)$  a  $(2, 4)$ , kladně orientovaný.

- (d) Vhodnou volbou pole  $\vec{F}$  zjistěte obsah množiny ohraničené křivkou s parametrizací  $\varphi(t) = (a \cos t, b \sin t)$ ,  $t \in \langle 0, 2\pi \rangle$  kladně orientovanou.
- (e) Vhodnou volbou pole  $\vec{F}$  zjistěte obsah množiny ohraničené kladně orientovanou křivkou skládající se z oblouku  $\varphi(t) = (t - t^2, e^t)$ ,  $t \in \langle 0, 1 \rangle$  a osy  $y$ .

**Výsledky:**

(a)  $\int_0^1 \int_0^1 2x - 2y \, dx dy = 0$

(b)  $\int_0^1 \int_{x^2}^{\sqrt{x}} 2x - 1 \, dy dx = -\frac{1}{30}$ ;

(c)  $\int_0^2 \int_x^{2x} 2xy \, dy dx = 12$ ;

(d) Volíme např.  $\vec{F} = \frac{1}{2}(-y, x)$  (nebo  $\vec{F} = (0, x)$  nebo  $\vec{F} = (-y, 0)$ ).

Pak obsah je  $\int_{(C)} \vec{F} d\vec{s} = \int_0^{2\pi} \frac{1}{2} ab(\cos^2 t + \sin^2 t) dt = \pi ab$ .

(d) Nejvýhodnější volba je  $\vec{F} = (-y, 0)$ . Křivka se skládá z oblouku  $C$  s parametrizací  $\varphi$  a z úsečky na ose  $y$  od bodu  $(0, e)$  do bodu  $(0, 1)$ .

$\int_{(C)} \vec{F} d\vec{s} = -\int_0^1 e^t(1 - 2t) dt = 3 - e$ . Integrál přes úsečku je nulový, neboť  $\vec{F}$  je kolmé na úsečku. Tím obsah =  $3 - e$ .

3. Pomocí Stokesovy věty vypočtete tok pole  $\text{rot } \vec{F}$  zadanou plochou  $M$ :

(a)  $\vec{F} = (x^2 z^2, y^2 z^2, xyz)$  a plocha je část paraboloidu  $z = x^2 + y^2$  ležící uvnitř válce  $x^2 + y^2 = r^2$  orientovaná normálou směřující dolů.

(b)  $\vec{F} = (y, y - x, z^2)$  a  $M$  je část sféry  $x^2 + y^2 + (z - 4)^2 = 25$  ležící nad rovinou  $xy$  a orientované vnější normálou.

**Výsledky:**

(a) Parametrizace křivky  $(C)$  je  $\varphi(t) = (-r \cos t, r \sin t, r^2)$  a

$\int_{(C)} \vec{F} d\vec{s} = \int_0^{2\pi} r^4(\cos^2 t \sin t + \sin^2 t \cos t) dt = 0$ .

(b) Parametrizace křivky ( $C$ ) je  $\varphi(t) = (3 \cos t, 3 \sin t, 0)$  a

$$\int_{(C)} \vec{F} d\vec{s} = 9 \int_0^{2\pi} (-\sin^2 t + \sin t \cos t - \cos^2 t) dt = -18\pi.$$

4. Pomocí Stokesovy věty vypočtete integrál pole  $\vec{F}$  podél orientované křivky ( $C$ ):

(a)  $\vec{F} = (2z + x, y - z, x + y)$  a  $C$  je obvod trojúhelníka s vrcholy  $(1, 0, 0)$ ,  $(0, 1, 0)$  a  $(0, 0, 1)$  orientovaný podle uvedeného pořadí vrcholů.

(b)  $\vec{F} = (-y, x, 2z^2)$  a  $C$  je kružnice  $x^2 + y^2 = a^2$  v rovině  $z = 2$ .

(c)  $\vec{F} = (x, y, xy)$  a křivka  $C$  je kraj plochy paraboloidu  $z = \frac{x^2}{4} + \frac{y^2}{9}$  ležící uvnitř válce  $x^2 + y^2 \leq 4$  a orientovaného normálou s kladnou  $z$ -tovou souřadnicí.

### Výsledky:

(a)  $\text{rot } F = (2, 1, 0)$  a  $\int_{(C)} \vec{F} d\vec{s} = \iint_D (2, 1, 0) \cdot (1, 1, 1) = \frac{3}{2}$ , kde  $D$  je trojúhelník  $D = \{(x, y) \in \mathbb{R}^2 \mid x + y \leq 1, x, y \geq 0\}$ .

(b) K použití Stokesovy věty je třeba si ještě zvolit plochu  $M$ , jejíž kraj je daná kružnice:  $M = \{(x, y, z) \in \mathbb{R}^3 \mid x^2 + y^2 \leq a^2, z = 2\}$  s orientací  $\vec{n} = (0, 0, 1)$ . Protože  $\text{rot } \vec{F} = (0, 0, 2)$ , máme

$$\int_{(C)} \vec{F} d\vec{s} = \iint_M \text{rot } \vec{F} \cdot \vec{n} dS = 2\pi a^2.$$

(c) Plocha  $M$  s daným krajem  $C$  je graf funkce  $z = \frac{x^2}{4} + \frac{y^2}{9}$  nad kruhem  $D = \{(x, y) \in \mathbb{R}^2 \mid x^2 + y^2 \leq 4\}$ . Normálový vektor ke grafu je  $\vec{n} = (-x/2, -2y/9, 1)$  a  $\text{rot } \vec{F} = (x, -y, 0)$ . Pak

$$\int_{(C)} \vec{F} d\vec{s} = \iint_D (x, -y, 0) \cdot (-x/2, -2y/9, 1) = -\frac{10}{9}\pi.$$

### Potenciální pole.

1. Zjistěte, která z následujících polí jsou potenciální a v kladném případě nalezněte jejich potenciál.

(a)  $\vec{F} = (2xy^2 + 2, 2yx^2 + 3y^2)$ ;



- (b)  $\vec{F} = (x^3 - y, x - y^3)$ ;  
 (c)  $\vec{F} = \left( \frac{x}{(x^2 + y^2 + 2)^2}, \frac{y}{(x^2 + y^2 + 2)^2} \right)$ ;  
 (d)  $\vec{F} = (x, -2y, 3z)$ ;  
 (e)  $\vec{F} = (xz, yz, xy)$ ;  
 (f)  $\vec{F} = (1 + yz \cos xy, xz \cos xy, -2z + \sin xy)$ .

**Výsledky:**

- (a)  $f = x^2y^2 + 2x + y^3 + C$ ;  
 (b) Není potenciální.  
 (c)  $f = -\frac{1}{2(x^2 + y^2 + 2)} + C$ ;  
 (d)  $f = \frac{1}{2}x^2 - y^2 + \frac{3}{2}z^2 + C$ ;  
 (e) Není potenciální.  
 (f)  $f = z \sin xy + x - z^2 + C$ .

2. Pro které hodnoty  $a, b$  je pole  $\vec{F} = (-xy + x, ax^2 + by)$  potenciální? Nalezněte jeho potenciál.

**Výsledek:**

Podmínka je  $2ax = -x$ , tj,  $a = -\frac{1}{2}$ . Hodnota  $b$  je libovolná. Potenciál  $f = \frac{1}{2}x^2(1 - y) + \frac{1}{2}by^2 + C$ .

3. Nalezněte funkci  $g(x)$  tak, aby pole  $\vec{F} = (e^y + y \sin x, g(x) + xe^y)$  bylo potenciální. Určete jeho potenciál.

**Výsledek:**

$g(x) = -\cos x$  a potenciál je  $f = xe^y - y \cos x + C$ .

**Mocninné řady.**

1. U následujících mocninných řad určete jejich střed a vypočtěte poloměr konvergence.

(a)  $\sum_{n=0}^{\infty} \frac{x^n}{(n+1)3^n}$ ;

$$(b) \sum_{n=0}^{\infty} \frac{(x+2)^n}{(n+1)^2 2^n};$$

$$(c) \sum_{n=0}^{\infty} \frac{n! x^n}{n^n};$$

$$(d) \sum_{n=1}^{\infty} \frac{4^{\sqrt{n}} (x+5)^n}{n};$$

$$(e) \sum_{n=0}^{\infty} (1 - (-2)^n) (x+1)^n;$$

$$(f) \sum_{n=0}^{\infty} a^{n^2} (x-1)^n, \quad 0 < a < 1;$$

**Výsledky:**

(a)  $R = 3$ ,  $x_0 = 0$ , (b)  $R = 2$ ,  $x_0 = -2$ , (c)  $R = e$ ,  $x_0 = 0$ , (d)  $R = 1$ ,  $x_0 = 0$ , (e)  $R = 1/2$ ,  $x_0 = -1$ , (f)  $R = \infty$ ,  $x_0 = 1$ .

2. Pro uvedené mocninné řady určete jejich poloměr konvergence a s pomocí derivování nebo integrace zjistěte jejich součet  $s(x)$ .

$$(a) \sum_{n=0}^{\infty} (-1)^n x^{2n};$$

$$(b) \sum_{n=1}^{\infty} \frac{2^n x^n}{n};$$

$$(c) \sum_{n=0}^{\infty} (-1)^n n x^n;$$

$$(d) \sum_{n=0}^{\infty} \frac{(-1)^n x^{3n}}{n!};$$

$$(e) \sum_{n=0}^{\infty} \frac{(x-1)^n}{(n+2)!};$$

$$(f) \sum_{n=0}^{\infty} \left( \frac{1}{5^n} + n \right) x^n;$$

$$(g) \sum_{n=0}^{\infty} (2n+1)x^n;$$

**Výsledky:**

$$(a) s(x) = \frac{1}{1+x^2}, R=1; (b) s(x) = \ln(1-2x), R=1/2;$$

$$(c) s(x) = -\frac{x}{(1+x)^2}, R=1; (d) s(x) = e^{-3x}, R=\infty;$$

$$(e) s(x) = \frac{e^{x-1} - x}{(x-1)^2}, \text{ pro } x \neq 1 \text{ a } s(1) = \frac{1}{2}, R=\infty;$$

$$(f) s(x) = \frac{5}{5-x} + \frac{x}{(1-x)^2}, R=1; (g) s(x) = \frac{1+x}{(1-x)^2}, R=1.$$

3. Pomocí rozvoju základních elementárních funkcí nalezněte pro následující funkce Taylorovy řady se zadaným středem a určete poloměr konvergence.

$$(a) f(x) = 2^x \text{ se středem } x_0 = 0 \text{ a se středem } x_0 = 1.$$

$$(b) f(x) = \cos^2 x \text{ se středem } x_0 = 0 \text{ a se středem } x_0 = \frac{1}{4}\pi.$$

$$(c) f(x) = \sin^3 x \text{ se středem } x_0 = 0.$$

$$(d) f(x) = \frac{x}{1+x-2x^2} \text{ se středem } x_0 = 0 \text{ a se středem } x_0 = -1.$$

$$(e) f(x) = \ln(1+x+x^2+x^3) \text{ se středem } x_0 = 0.$$

$$(f) f(x) = \frac{1}{x^2+4x+7} \text{ se středem } x_0 = -2.$$

**Výsledky:**

$$(a) \sum_{n=0}^{\infty} \frac{\ln^n 2}{n!} x^n, \quad 2 \sum_{n=0}^{\infty} \frac{\ln^n 2}{n!} (x-1)^n, R=\infty;$$

$$(b) 1 + \sum_{n=1}^{\infty} \frac{(-1)^n 2^{2n-1}}{(2n)!} x^{2n}, \quad \frac{1}{2} - \sum_{n=0}^{\infty} \frac{(-1)^n 2^{2n}}{(2n+1)!} (x - \frac{1}{4}\pi)^{2n+1}, R=\infty;$$

$$(c) \frac{3}{4} \sum_{n=1}^{\infty} (-1)^{n+1} \frac{3^{2n} - 1}{(2n+1)!} x^{2n+1}, R=\infty;$$

$$(d) f(x) = \frac{x}{3} \left( \frac{1}{x + \frac{1}{2}} - \frac{1}{x-1} \right), \quad \frac{1}{3} \sum_{n=0}^{\infty} (1 + (-2)^{n+1}) x^{n+1}, R=1/2,$$

$$\frac{1}{2} + \frac{1}{3} \sum_{n=1}^{\infty} (2^n + 2^{-n})(x+1)^n, R = 1/2;$$

$$(e) \sum_{n=1}^{\infty} \frac{(-1)^n}{n} x^n + \sum_{n=1}^{\infty} \frac{(-1)^n}{n} x^{2n}, R = 1;$$

$$(f) \sum_{n=0}^{\infty} \frac{(-1)^n}{3^{n+1}} (x+2)^{2n}, R = \sqrt{3}.$$

4. Pomocí derivování nebo integrování určete Taylorovy rozvoje zadaných funkcí a poloměry konvergence.

$$(a) f(x) = \frac{1}{(1-x)^3} \text{ se středem } x_0 = -1.$$

$$(b) f(x) = x \arctg x - \ln \sqrt{1+x^2} \text{ se středem } x_0 = 0.$$

**Výsledky.**

$$(a) 2 \sum_{n=0}^{\infty} \frac{1}{4^n} \binom{1/2}{n} (x-4)^n, R = 4; \quad (b) \sum_{n=1}^{\infty} \frac{(-1)^{n-1}}{2n(2n+1)} x^{2n}, R = 1.$$

**Fourierovy řady.**

1. Nalezněte Fourierovu řadu  $2\pi$ -periodické funkce  $f$ , která má na intervalu  $\langle 0, 2\pi \rangle$  zadaný předpis a vyšetřete ve kterých bodech řada reprezentuje funkci  $f$ .

$$(a) f(x) = |\cos x|;$$

$$(b) f(x) = \begin{cases} x, & x \in \langle 0, \pi \rangle, \\ 0, & x \in \langle \pi, 2\pi \rangle; \end{cases}$$

$$(c) f(x) = x^2;$$

$$(d) f(x) = \begin{cases} \cos x, & x \in \langle 0, \pi \rangle, \\ 0, & x \in \langle \pi, 2\pi \rangle. \end{cases}$$

**Výsledky.**

$$(a) \frac{2}{\pi} + \frac{4}{\pi} \sum_{n=1}^{\infty} \frac{(-1)^{n-1}}{4n^2 - 1} \cos 2nx, \text{ řada reprezentuje funkci všude;}$$

(b)  $\frac{\pi}{4} + \sum_{n=1}^{\infty} \left( \frac{2}{\pi(2n-1)^2} \cos(2n-1)x + \frac{(-1)^{n+1}}{n} \sin nx \right)$ , řada reprezentuje funkci všude mimo body  $(2k+1)\pi$ ,  $k \in \mathbb{Z}$ . V bodech  $(2k+1)\pi$  má řada hodnotu  $\pi/2$ ;

(c)  $\frac{4\pi^2}{3} + \frac{4}{\pi} \sum_{n=1}^{\infty} \left( \frac{4}{n^2} \cos nx - \frac{4\pi}{n} \sin nx \right)$ , řada reprezentuje funkci všude mimo body  $2\pi k$ ,  $k \in \mathbb{Z}$ . V bodech  $2\pi k$  má řada hodnotu  $2\pi^2$ ;

(d)  $\frac{1}{2} \cos x - \frac{4}{\pi} \sum_{n=1}^{\infty} \frac{n}{4n^2-1} \sin 2nx$ , řada reprezentuje funkci všude mimo body  $\pi k$ ,  $k \in \mathbb{Z}$ . V bodech  $\pi k$  má řada hodnotu  $(-1)^k/2$ .

2. Vyjádřete následující funkce ve tvaru sinové Fourierovy řady.

(a)  $f(x) = \cos 2x$ ,  $x \in \langle 0, \pi \rangle$ ;

(b)  $f(x) = \begin{cases} \sin x, & x \in \langle 0, \frac{1}{2}\pi \rangle, \\ 0, & x \in \langle \frac{1}{2}\pi, \pi \rangle. \end{cases}$

**Výsledky.**

(a)  $\frac{4}{\pi} \sum_{n=0}^{\infty} \frac{2n+1}{(2n+3)(2n-1)} \sin(2n+1)x$ , řada reprezentuje funkci všude mimo  $\pi k$ ,  $k \in \mathbb{Z}$ . V bodech  $\pi k$  má řada hodnotu 0.

(b)  $\frac{1}{2} \sin x + \frac{4}{\pi} \sum_{n=1}^{\infty} \frac{(-1)^n n}{4n^2-1} \sin 2nx$ , řada reprezentuje funkci všude mimo  $\frac{1}{2}(2k+1)\pi$ ,  $k \in \mathbb{Z}$ . V bodech  $\frac{1}{2}(2k+1)\pi$  má řada hodnotu  $(-1)^k/2$ .

3. Vyjádřete následující funkce ve tvaru kosinové Fourierovy řady.

(a)  $f(x) = x$ ,  $x \in \langle 0, \pi \rangle$ ;

(b)  $f(x) = \begin{cases} \frac{1}{2}\pi - x, & x \in \langle 0, \frac{1}{2}\pi \rangle, \\ 0, & x \in \langle \frac{1}{2}\pi, \pi \rangle. \end{cases}$

**Výsledky.**

(a)  $\frac{\pi}{2} - \frac{4}{\pi} \sum_{n=1}^{\infty} \frac{1}{(2n-1)^2} \cos(2n-1)x$ , řada reprezentuje funkci všude.

(b)  $\frac{\pi}{8} + \frac{4}{\pi} \sum_{n=1}^{\infty} \frac{\sin^2(\frac{1}{4}\pi n)}{n^2} \cos nx$ , řada reprezentuje funkci všude.